

# Lernkontrolle – Mathematik

Name	Punkte	Note	Unterschrift der Eltern
	von		

1.	<b>&lt; oder &gt; oder =</b>	8 P.	
----	------------------------------	------	--

- |    |        |        |    |             |         |
|----|--------|--------|----|-------------|---------|
| A. | 51 936 | 49 999 | B. | 499 900 + 2 | 500 000 |
|    | 98 899 | 99 111 |    | 250 000 · 2 | 500 000 |
|    | 12 345 | 54 321 |    | 800 000 : 2 | 500 000 |
|    | 54 312 | 54 321 |    | 600 000 – 2 | 500 000 |

2.	<b>Ergänze auf 1 Million</b>	8 P.	
----	------------------------------	------	--

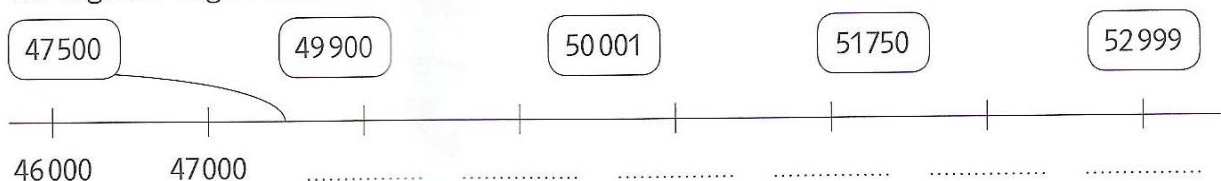
- |    |                 |                 |
|----|-----------------|-----------------|
| A. | 640 000 + _____ | 999 999 + _____ |
|    | 566 000 + _____ | 944 000 + _____ |
|    | 475 000 + _____ | 80 500 + _____  |
|    | 779 000 + _____ | 495 000 + _____ |

3.	<b>Addiere immer 10 000</b>	3 P.	
----	-----------------------------	------	--

- A. 163 718, 173 718, \_\_\_\_\_ , \_\_\_\_\_ , \_\_\_\_\_

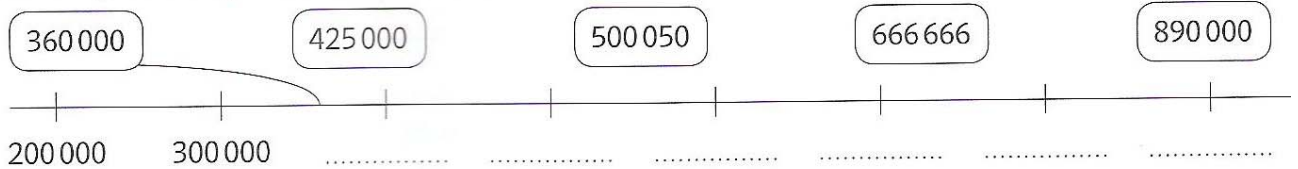
4.	<b>Zähle weiter und zeichne ein</b>	6 P.	
----	-------------------------------------	------	--

- A Zähle in Tausenderschritten weiter, beschrifte den Zahlenstrahl.  
 B Wo ungefähr liegen diese Zahlen? Zeichne ein.



<b>5.</b>	<b>Zähle weiter und zeichne ein</b>	<b>6 P.</b>	
-----------	-------------------------------------	-------------	--

- A** Zähle in Hunderttausenderschritten weiter.  
**B** Wo ungefähr liegen diese Zahlen? Zeichne ein.



<b>6.</b>	<b>Sachrechnen im Kopf</b>	<b>6 P.</b>	
-----------	----------------------------	-------------	--



<b>7.</b>	<b>Ordne die Kantone nach der Grösse der Einwohnerzahlen</b>	<b>3 P.</b>	
-----------	--	-------------	--

- |                   |                   |
|-------------------|-------------------|
| <b>FR</b> 250 400 | <b>ZH</b> 1261800 |
| <b>SO</b> 247400  | <b>BE</b> 955400  |
| <b>BL</b> 265300  | <b>LU</b> 354700  |

Schreibe nur die Abkürzungen der Kantone hin.

Beispiel:

7.   TG  

1.           2.           3.           4.           5.           6.

Name: \_\_\_\_\_


<b>8.</b>	<b>Wie viele Einwohner sind dargestellt?</b>	<b>4 P.</b>	
-----------	--	-------------	--

A.



steht für 100 000.

B.



steht für 10 000.



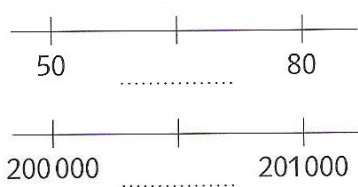
steht für 1 000.

A. ....

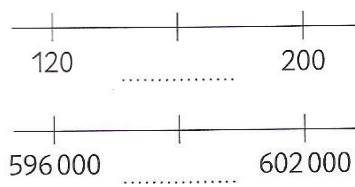
B. ....

<b>9.</b>	<b>Welche Zahl liegt genau in der Mitte?</b>	<b>6 P.</b>	
-----------	--	-------------	--

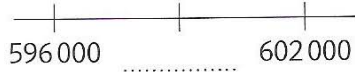
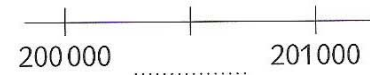
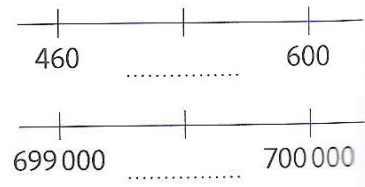
A



B



C



<b>10.</b>	<b>Schreibe die Nachbarzahlen auf</b>	<b>8 P.</b>	
------------	---------------------------------------	-------------	--

..... , 99 990 , .....

..... , 246 246 , .....

..... , 462 462 , .....

..... , 500 100 , .....